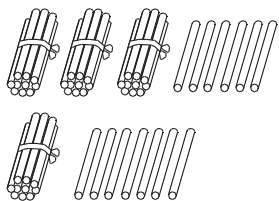




第3课时 进位加

基础过关

bǎi yì bǎi suàn yì suàn
一、摆一摆，算一算。



$$\begin{array}{r} 36 \\ + 17 \\ \hline \end{array}$$

想：个位上的6加7得()，向十位上进()，个位上写()；十位上3 + 1 = ()，()再加上进上来的1是()。所以得数是()。

yòngshù shì jì suàn
二、用竖式计算。

$86 + 6 =$

$34 + 29 =$

$43 + 49 =$

shù xué yī yuàn duì de huà cuò de huà bìng gǎi zhèng
三、数学医院。(对的画“√”，错的画“×”，并改正)

1. 5 改正：

$$\begin{array}{r} + 17 \\ 67 \\ \hline \end{array}$$

()

2. 5 改正：

$$\begin{array}{r} + 29 \\ 74 \\ \hline \end{array}$$

()

四、两艘航母上一共有多少架歼-15战斗机？



我搭载了19架歼-15战斗机。

我搭载了27架歼-15战斗机。



能力提升

xiǎo huā xià miàn cáng zhe jǐ tián yì tián
五、小花下面藏着几？填一填。

$$\begin{array}{r} \text{云} 7 \\ + 4 \text{云} \\ \hline 9 \quad 3 \end{array}$$

$$\begin{array}{r} 6 \text{云} \\ + \text{云} 9 \\ \hline 9 \quad 4 \end{array}$$

$$\begin{array}{r} \text{云} 6 \\ + 3 \text{云} \\ \hline 8 \quad 4 \end{array}$$



重难点练习一

(匹配教科书第12~16页内容)

yòng shù shì jì suàn

一、用竖式计算。

$22 + 35 =$

$34 + 27 =$

$46 + 29 =$

māo zhuō lǎo shǔ

lián yi lián

二、猫捉老鼠。(连一连)

$51 + 3$

$28 + 9$

$65 + 23$

$28 + 45$



lǐ yīng gāi tián jǐ

三、□里应该填几?

$32 + 7 = \square 9$

$40 + 14 = \square 4$

$9 + 46 = \square 5$

$26 + 58 = \square 4$

$18 + 77 = \square 5$

$49 + 17 = \square 6$

四、> < = 会落在哪朵花上?

$2 + 67$

$20 + 67$

$87 - 7$

$66 + 4$

$62 + 18$

$35 + 46$

$95 - 3$

$48 + 32$

$47 + 33$

$37 + 46$

$76 - 20$

$25 + 27$

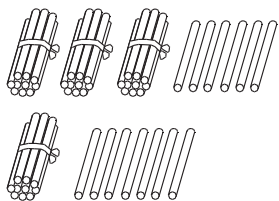
五、爸爸带小欣去北京美术馆参观“民族大团结——全国雕塑艺术作品展”,小欣拍了37张雕塑照片,爸爸拍了58张雕塑照片。他俩一共拍了多少张雕塑照片?



第3课时 进位加

基础过关

bǎi yì bǎi suàn yì suàn
一、摆一摆，算一算。



$$\begin{array}{r} 36 \\ + 17 \\ \hline (53) \end{array}$$

想：个位上的6加7得(13)，向十位上进(1)，个位上写(3)；十位上3+1=(4)，(4)再加上进上来的1是(5)。所以得数是(53)。

yòngshù shì jì suàn
二、用竖式计算。

$$86 + 6 = 92$$

$$\begin{array}{r} 86 \\ + 6 \\ \hline 92 \end{array}$$

$$34 + 29 = 63$$

$$\begin{array}{r} 34 \\ + 29 \\ \hline 63 \end{array}$$

$$43 + 49 = 92$$

$$\begin{array}{r} 43 \\ + 49 \\ \hline 92 \end{array}$$

shù xué yī yuàn duì de huà cuò de huà bìng gǎi zhèng
三、数学医院。(对的画“√”，错的画“×”，并改正)

1. 5 改正：5

$$\begin{array}{r} + 17 \\ 67 \end{array}$$

(×)

$$\begin{array}{r} + 17 \\ 22 \end{array}$$

2. 55 改正：55

$$\begin{array}{r} + 29 \\ 74 \end{array}$$

(×)

$$\begin{array}{r} + 29 \\ 84 \end{array}$$

四、两艘航母上一共有多少架歼-15战斗机？



我搭载了19架歼-15战斗机。

我搭载了27架歼-15战斗机。



$$19 + 27 = 46(\text{架})$$

答：两艘航母上一共有46架歼-15战斗机。

能力提升

xiǎo huā xià miàn cáng zhe jǐ tián yì tián
五、小花下面藏着几？填一填。

$$\begin{array}{r} 47 \\ + 46 \\ \hline 93 \end{array}$$

$$\begin{array}{r} 65 \\ + 29 \\ \hline 94 \end{array}$$

$$\begin{array}{r} 46 \\ + 38 \\ \hline 84 \end{array}$$



重难点练习一

(匹配教科书第12~16页内容)

yòng shù shì jì suàn

一、用竖式计算。

$22 + 35 = 57$

$$\begin{array}{r} 22 \\ + 35 \\ \hline 57 \end{array}$$

$34 + 27 = 61$

$$\begin{array}{r} 34 \\ + 27 \\ \hline 61 \end{array}$$

$46 + 29 = 75$

$$\begin{array}{r} 46 \\ + 29 \\ \hline 75 \end{array}$$

māo zhuō lǎo shǔ lián yi lián



二、猫捉老鼠。(连一连)

$$\begin{array}{|c|} \hline 51 + 3 \\ \hline \end{array}$$

$$\begin{array}{|c|} \hline 28 + 9 \\ \hline \end{array}$$

$$\begin{array}{|c|} \hline 65 + 23 \\ \hline \end{array}$$

$$\begin{array}{|c|} \hline 28 + 45 \\ \hline \end{array}$$



lǐ yīng gāi tián jǐ

三、□里应该填几?

$32 + 7 = \boxed{3}9$

$40 + 14 = \boxed{5}4$

$9 + 46 = \boxed{5}5$

$26 + 58 = \boxed{8}4$

$18 + 77 = \boxed{9}5$

$49 + 17 = \boxed{6}6$

huì luò zài nǎ duǒ huā shàng

四、> < = 会落在哪朵花上?

$2 + 67 < 20 + 67$

$87 - 7 > 66 + 4$

$62 + 18 < 35 + 46$

$95 - 3 > 48 + 32$

$47 + 33 < 37 + 46$

$76 - 20 > 25 + 27$

五、爸爸带小欣去北京美术馆参观“民族大团结——全国雕塑艺术作品展”,小欣拍了37张雕塑照片,爸爸拍了58张雕塑照片。他俩一共拍了多少张雕塑照片?

$37 + 58 = 95(\text{张})$

答:他俩一共拍了95张雕塑照片。